
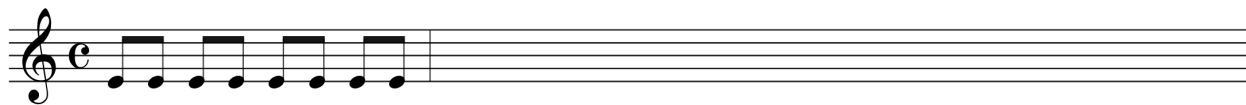


# 4. ročník - 2. pololetí


ZUŠ U PŮJČOVNY

1. Zapiš rytmus písně Vyletěla holubička ze skály:



2. Jak se jmenují obraty kvintakordu? ..... a .....

3. Napiš:



C dur: T<sup>5</sup>

F dur: T<sup>6</sup>

d moll: T<sup>5</sup>

a moll: T<sup>6</sup><sub>4</sub>

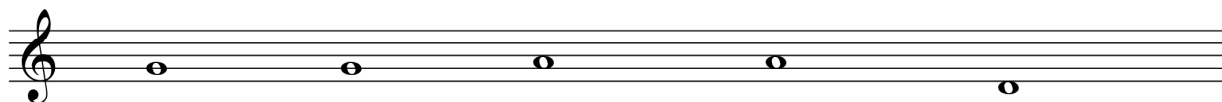
4. Co je to enharmonická záměna? .....

.....

Zakroužkuj, kdy se jedná o enharmonickou záměnu:



5. Napiš intervaly (směrem nahoru - vzestupné):



v. 3

m. 3

č. 5

v. 2

v. 7

6. Poskládej písničku:

Jak se jmenuje? .....

7. Vyplň křížovku:

1. skladba má rychlé nebo pomalé ...
2. část klavíru, při hře prodlužuje tóny
3. soubor tří hudebníků
4. vyšší mužský hlas
5. kdo ladí klavír
6. Voděnka studená je lidová ...
7. divadelní představení s hudbou
8. zvýšený tón A
9. český tanec ve dvoučtvřovém taktu
10. čára, která spojuje nožičky osminových a šestnáctinových not
11. tón přiměřeně prodlouží

8. Znalost postupu # a b v předznamenání. Stupnice dur do 7# a 7b, mollové do 4# a 4b.

9. Znalost not v houslovém klíči f - g3, v basovém C, c, c1 (klavíristé C - g1)